



## Education Social Media Network

මිශ්‍ර ප්‍රශ්න පත්‍ර - (2023)

5 - ශ්‍රේණිය

1. එකම කාණ්ඩයකට අයත් අකුරු ඇතුළත් පිළිතුර වන්නේ,

i.

අරලව

ii.

ගනසප

iii.

වදගස

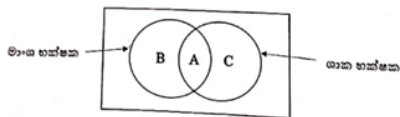
2. ලංකා ගමනාගමන මණ්ඩලය කෙටියෙදුමක් ලෙස දැක්වීමේ දී ලං.ග.ම. ලෙස යෙදේ. ඒ අනුව ලංකා දුම්රිය දෙපාර්තමේන්තුව කෙටි කර දැක්විය හැක්කේ,

i. ලං.දු.දෙ.

ii. ල.දු.දේ

iii. ල.දු.දෙ

3. රූපය ඇසුරින් ප්‍රශ්නවලට පිළිතුරු සපයන්න



A අක්ෂරයට යෙදිය හැක් සතෙක් වන්නේ,

i. කපුටා

ii. බත්කුරා

iii. පිළිහුඩුවා

4. මුල් වචන දෙකෙහි සම්බන්ධය තේරුම්ගෙන හිස්තැනට ගැළපෙන වචනය තෝරන්න.

මෝල් ගහ -&gt; වංගෙඩිය

නැඬිලිය -&gt; .....

i. ඇතිලිය

ii. කොරහ

iii. පුස්තකාලය

5. රෝගියා -&gt; රෝහල

ශිෂ්‍යයා -&gt; .....

i. පන්තිය

ii. පාසල

iii. පුස්තකාලය

6. පැළ තවානක පිළිවෙළින් අඹ,පේර, දොඩම්, අඹ,..... ලෙස පැළ තබා ඇත. මෙම පෙළේ 15 වෙනි පැළය වන්නේ,

- i. දොඩම්
- ii. අඹ
- iii. පේර

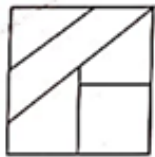
7. නිවැරදි වාක්‍ය තෝරන්න

- i. ළමයි පාසල් යයි.
- ii. ගුරුතුමිය අකුරු ඉගැන්වුවා ය.
- iii. විදුහල්පතිතුමා දේශනයක් පවත්වනි.

8. නිශානි A නම් ස්ථානයේ සිට 20m උතුරට ගොස් තම දකුණු අත පැත්තට හැරී 10m ගොස් නැවත දකුණු අත පැත්තට හැරී 20m යයි. ඇය දැන් සිටින්නේ මුලින් සිටි ස්ථානයට කොපමණ දුරින් ද?

- i. 50m
- ii. 30m
- iii. 10m

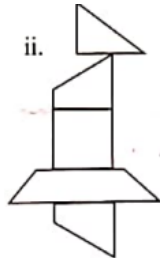
9. ප්‍රශ්නවල මුලින් දී ඇති රූපය කොටස් කර එම කොටස් යොදාගෙන සාදාගත හැකි රූපය ඇතුළත් පිළිතුර තෝරන්න



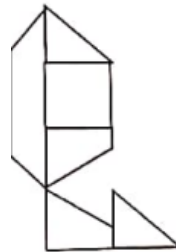
i.



ii.



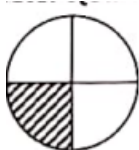
iii.



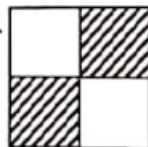
10. මුල් රූපයට සමාන රූපය තෝරන්න



i.



ii.



iii.



## ANSWERS

1. 2
2. 1
3. 1
4. 2
5. 2
6. 3
7. 2
8. 3
9. 2
- 10.3