



මිශ්‍ර ප්‍රශ්න පත්‍ර - (2023)

5 - ශ්‍රේණිය

1. වචන කාණ්ඩයට ගැළපෙන රූපය තෝරන්න

රාත්‍රිය, මාංශ, පියාපත්

i.



ii.



iii.



2. මුහුදු, සුළඟ, ගමනාගමනය

i.



ii.



iii.



3. රූපයෙ දැක්වෙන ඉරි දිගේ කැපීමෙන් වෙන්කරගත හැකි ත්‍රිකෝණ ගණන කීය ද?



i. 08

ii. 04

iii. 06

4. ඉට්පන්දමක් විනාඩි 20 ක් දැල්වේ. පළමු ඉට්පන්දම පෙ.ව. 7.20ට දල්වා එකක් දැල්වීමෙන් පසු අනෙක දල්වන්නේ නම් ඉට්පන්දම් තුනම දැල්වී අවසන් වන්නේ කීයට ද?

i. පෙ.ව .8.20

ii. පෙ.ව 7.40

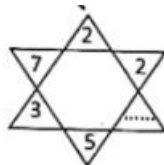
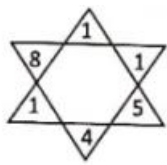
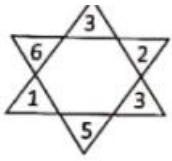
iii. පෙ.ව 8.00

5. රූපයේ අංක යොදා ඇත්තේ කිසියම් රටාවකට ය. ඒ අනුව A සහ B වලට ගැළපෙන අංක පිළිවෙළින් ඇති පිළිතුර වන්නේ.

14	12	A	8
16	2	4	6
18	32	30	28
20	B	24	26

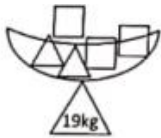
- i. 22, 10
- ii. 10, 22
- iii. 10, 34

6. රටාව හඳුනාගෙන හිස්තැනට ගැළපෙන පිළිතුර තෝරන්න.



- i. 01
- ii. 03
- iii. 02

7. හිස්තැනට සුදුසු අගය වන්නේ,



- i. 8kg
- ii. 6 kg
- iii. 10 kg

8. Δ හැඩයට ගැළපෙන බර ප්‍රමාණය වන්නේ,

- i. 5 kg
- ii. 3 kg
- iii. 4 kg

9.




ඊළඟ ස්ථානයට ගැලපෙන රූපය තෝරන්න.

i.



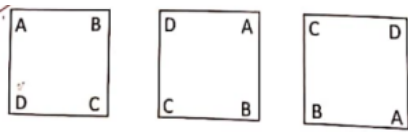
ii.



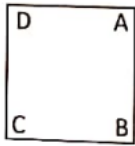
iii.



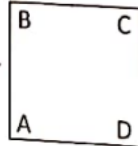
10.



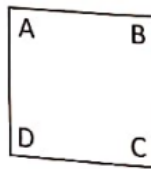
i.



ii.



iii.



ANSWERS

1. 2
2. 3
3. 2
4. 1
5. 2
6. 1
7. 2
8. 1
9. 1
10. 2