



- බුද්ධි පරීක්ෂණයක ප්‍රශ්න 40ක් ඇත. එහි එක නිවැරදි පිළිතුරකට ලකුණු 2ක් හිමිවන අතර වැරදි පිළිතුරකට ලකුණු එකක් අඩු කරයි

1. ලකුණු 50ක් ලබාගත් අයෙකුගේ නිවැරදි පිළිතුරු ගණන විය හැක්කේ,

- 1) 25                      2) 30                      3) 35

2. ප්‍රශ්න 20ක් නිවැරදි නම් ලැබෙන ලකුණු ගණන කීයද?

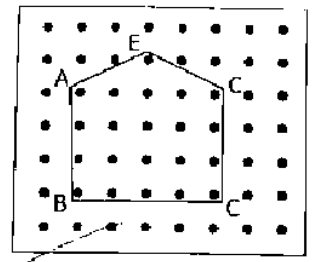
- 1) ලකුණු 20                      2) ලකුණු 40                      3) ලකුණු 50

3. රූපයේ ඇති ඇණ ගණන කීයද?

- 1) 9                      2) 21                      3) 16

4. මෙම රූපයේ අක්ෂරය සහිත ඇණයෙන් රබර් පටියක් පැන්නු විට සෑදෙන හැඩය වන්නේ,

- 1) සමචතුරස්‍රයකි                      2) සෘජුකෝණාස්‍රයකි.                      3) ත්‍රිකෝණයකි



- උදයම පුබුද්දි - මුහුණට දිය දී                      කුළඳෙව් නමදී - ගේ දොර අමදී

5. මෙම කවියේ “කුළඳෙව්” ලෙස හඳුන්වන්නේ,

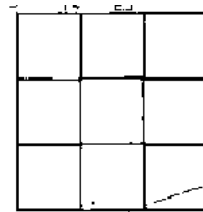
- 1) ගුරුවරුන්                      2) දෙමාපියන්                      3) දෙවියන්

6. “අවදිවෙයි” යන අදහස දීමට කවියේ යෙදී ඇති පදය වන්නේ

- 1) නමදී                      2) අමදී                      3) පුබුද්දි

7. රූපයේ ඇති මුළු සමචතුරස්‍ර ගනන වන්නේ,

- 1) 10                      2) 16                      3) 14



8. ළිඳක් කැපීමට මිනිසුන් 4 දෙනෙකුට දින 4ක් ගත වේ. දින දෙකකදී ළිඳ කපා අවසන් කිරීමට නම් මිනිසුන් කී දෙනෙක් වැඩ කළයුතුද

- 1) 2                      2) 6                      3) 8

9. ක්‍රීඩා උත්සවයක් සඳහා ක්‍රීඩා පිටියක වටේට කොඩි 20ක් සිටුවයි. සෑම කොඩි 2ක් අතර මල් පෝච්චියක් තැබීමට අවශ්‍ය මල් පෝච්චි ගනන වන්නේ,

- 1) 20                      2) 19                      3) 21

10. පහත රූපයේ පරිදි සතකයේ එක් මුල්ලක් කපා ඉවත් කළ පසු දැන් ඡණකයේ දාන ගනන වන්නේ,

- 1) 15                      2) 14                      3) 16





## Education Social Media Network

මිශ්‍ර ප්‍රශ්න පත්‍ර - 125 (2023)

5 - ශ්‍රේණිය

පිළිතුරු

- බුද්ධි පරීක්ෂණයක ප්‍රශ්න 40ක් ඇත. එහි එක නිවැරදි පිළිතුරකට ලකුණු 2ක් හිමිවන අතර වැරදි පිළිතුරකට ලකුණු එකක් අඩු කරයි

1. ලකුණු 50ක් ලබාගත් අයෙකුගේ නිවැරදි පිළිතුරු ගණන විය හැක්කේ,

- 1) 25                      2) 30                      3) 35

2. ප්‍රශ්න 20ක් නිවැරදි නම් ලැබෙන ලකුණු ගණන කීයද?

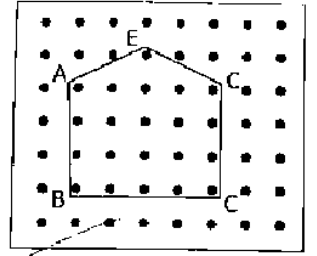
- 1) ලකුණු 20                      2) ලකුණු 40                      3) ලකුණු 50

3. රූපයේ ඇති ඇණ ගණන කීයද?

- 1) 9                      2) 21                      3) 16

4. මෙම රූපයේ අක්ෂරය සහිත ඇණයෙන් රබර් පටියක් පැන්නු විට සෑදෙන හැඩය වන්නේ,

- 1) සමචතුරස්‍රයකි                      2) සාප්‍රකෝණාස්‍රයකි.                      3) ත්‍රිකෝණයකි



- උදයම පුබුදි - මුහුණට දිය දී                      කුළඳෙව් නමදී - ගේ දොර අමදී

5. මෙම කවියේ “කුළඳෙව්” ලෙස හඳුන්වන්නේ,

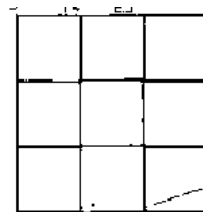
- 1) ගුරුවරුන්                      2) දෙමාපියන්                      3) දෙවියන්

6. “අවදිවෙයි” යන අදහස දීමට කවියේ යෙදී ඇති පදය වන්නේ

- 1) නමදී                      2) අමදී                      3) පුබුදී

7. රූපයේ ඇති මුළු සමචතුරස්‍ර ගණන වන්නේ,

- 1) 10                      2. 16                      3. 14



8. ලිදැක් කැපීමට මිනිසුන් 4 දෙනෙකුට දින 4ක් ගත වේ. දින දෙකකදී ලිදැ කපා අවසන් කිරීමට නම් මිනිසුන් කී දෙනෙක් වැඩ කළයුතුද

- 1) 2                      2) 6                      3) 8

9. ක්‍රීඩා උත්සවයක් සඳහා ක්‍රීඩා පිටියක වටේට කොඩි 20ක් සිටුවයි. සෑම කොඩි 2ක් අතර මල් පෝච්චියක් තැබීමට අවශ්‍ය මල් පෝච්චි ගණන වන්නේ,

- 1) 20                      2) 19                      3) 21

10. පහත රූපයේ පරිදි ඝනකයේ එක් මුල්ලක් කපා ඉවත් කළ පසු දැන් ඡණකයේ දාන ගණන වන්නේ,

- 1) 15                      2) 14                      3) 16

