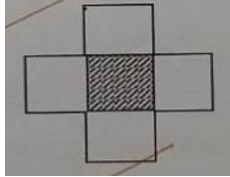




මිග් ප්‍රශ්න පත්‍ර - (2023)

5 - ශ්‍රේණිය

(01) මුළු රූපයේ විශාලත්වය අඩුරු කළ කොටසේ විශාලත්වය මෙන් කී ගුණයක්ද ?



- 1) හතර ගුණයකි 2) පස් ගුණයකින් 3) තුන් ගුණයකි

(02) අයිසා මීටර් පහක් දුටු විට මල්ලි මීටර් තුනක් දුටු නම්, අයිසා මීටර් 30 ක් දුටු විට මල්ලි දුටු දුර කොපමණද ?

- 1) 15 m 2) 20 m 3) 18 m

කොටුව තුළ ඉලක්කම් යොදා ඇත්තේ කිසියම් රටාවකටය ඒ අනුව,

2	16		24
		6	
	A		18
8	10	12	B

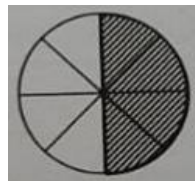
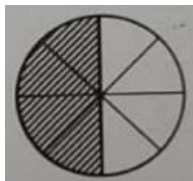
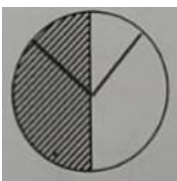
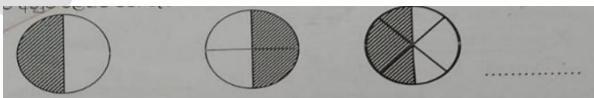
(03) A අකුර සහිත කොටුවට ගැලපෙන ඉලක්කම කුමක්ද ?

- 1) 4යි 2) 12යි 3) 14යි

(04) B අකුර සහිත කොටුවට ගැලපෙන ඉලක්කම කුමක්ද ?

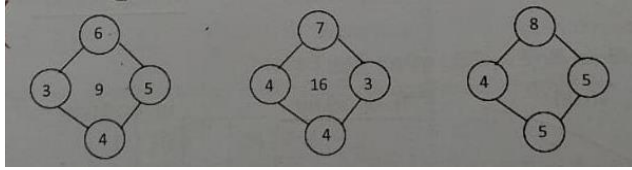
- 1) 14 යි 2) 15 යි 3) 16 යි

(05) රටාවට අනුව ඊළඟට එන රූපය තෝරන්න.



- 1) 2) 3)

(06) සංඛ්‍යා රටාව හඳුනාගෙන හිස්තැනට ගැළපෙන පිළිතුර තෝරන්න.




1) 20 යි

2) 22 යි

3) 7 යි

(07) මුලින් දී ඇති රූපයේ අඩු කොටසට ගැළපෙන පිළිතුර තෝරන්න.




1)

2)

3)

(08) පහත දැක්වෙන රූප සටහන බලා අංක 8 සහ 9 ප්රශ්න සඳහා පිළිතුරු තෝරන්න.



රූප සටහනට අනුව දියඇල්ලක් ආරම්භ විය හැකි ස්ථානයක් වන්නේ,

1) 1 යි

2) 2 යි

3) 3 යි

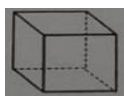
(09) සරු-ගලයක් තිබිය හැකි ස්ථානයක් සහ වාහනයක් නොතිබිය හැකි ස්ථානයක් පිළිවෙලින් දැක්වෙන්නේ,

1) 3 හා 1

2) 2 හා 3

3) 2 හා 1

(10) මෙවැනි සනක පහක ඇති මුහුණත් ගණන කීයද ?



1) 25 යි.

2) 28 යි.

3) 30 යි

පිළිතුරු

01) 2

02) 3

03) 2

04) 2

05) 3

06) 3

07) 2

08) 3

09) 3

10) 3

a3book.com