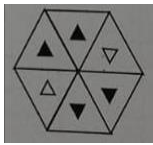
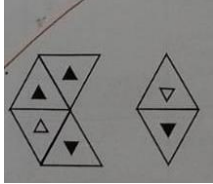





## මිශ්‍ර ප්‍රශ්න පත්‍ර - (2023)

## 5 - ශ්‍රේණිය


(01) පළමු රූපයේ හිස්තැනට දෙවන රූපය යෙදූ විට ලැබෙන රූපය තෝරන්න.



1)



2)



3)

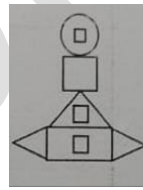
(02) කිසියම් රටාවක් ගොඩ නැංවීම සඳහා සෘජුකෝණාස්‍ර එක් වරක්ද, වෘත්ත දෙවරක් ද, ත්‍රිකෝණ තුන්වරක් ද ,සමචතුරස්‍ර හතරක්ද ,යොදාගෙන ඇති රූපය තෝරන්න.



1)



2)



3)

(03) 3 හා 5 යන සංඛ්‍යා දෙකෙන්ම ඉතිරි නැතිව බෙදෙන 2 න් 35 න් අතර ඇති සංඛ්‍යා ගණන කීයද ?

1) 2

2) 3

3) 4

(04) කැරට් 1kg ට කැරට් අල හතක් අල්ලයි. එවැනි කැරට් අල 35න් කිලෝ කීයක් සෑදිය හැකිද ?

1) 4

2) 5

3) 6

(05) මම යම් සංඛ්‍යාවක් සිතුවෙමි .එය පහෙන් ගුණකර හතරේ න් බෙදූ විට ලැබෙන පිළිතුර 25 වේ .මා සිතූ සංඛ්‍යාව වන්නේ,

1) 10

2) 15

3) 20

(06) එක්තරා වර්ෂයක මැයි 28 වෙනිදා ඉරිදා දිනයකි. එම වසරේ ජූනි ෪ 15 වෙනිදා කවදාද ?

1) සිකුරාදා

2) බ්‍රහස්පතින්දා

3) බදාදා

(07) ඉරි ඇදි වචන වල අර්ථයට ගැලපෙන අර්ථය සහිත ප්‍රකාශය තෝරන්න.

ප්‍රකාශන හිමිකම් © 2023 A3BOOK.

සියලු හිමිකම් ඇවිරිණි

web : [www.a3book.com](http://www.a3book.com)

එම පුවත ඇසූ මගේ ඉහේ මලක් පිපුණා මෙන් විය.

- 1) අධික සතුටට පත්වීම    2) දැඩි සැහැල්ලුවක් දැනීම    3) සියල්ල අමතක වීම

(08) යතුරු පැදිය පදවාගෙන ගිය මාමා බේරි ඇත්තේ අනූ නවයෙන් බව අම්මා කීවාය.

- 1) අනූ නව වන කිලෝමීටර කණුව අසල ය  
2) මරණයට පත් වීමට ගොස් බේරීම  
3) යාන්තමින් බේරීම

(09) අංක 9 හා 10 දී ඇති පද පෙළ අතරින් දෙකක කිසියම් සම්බන්ධතාවක් ඇත. එවැනි සම්බන්ධතාවයක් නොදක්වන පදය සහිත පිළිතුර තෝරන්න.

- 1) නිල් , රතු , සුදු , කොළ  
2) ඉන්දියාව, මාලදිවයින, නේපාලය, ශ්‍රී ලංකාව  
3) සදුදා , අගහරුවාදා, බදාදා, දෙසැම්බර්

(10) 1) කැරට් , බණ්ඩක්ක , අලුවා, වට්ටක්කා

- 2) දොඩම්, ජේර, මිදි , දිවුල්  
3) අක්කා, අයියා, නංගී, මල්ලී

## පිළිතුරු

01) 1

02) 2

03) 1

04) 2

05) 3

06) 2

07) 1

08) 3

09) 3

10) 1

a3book.com