



01. මැලියම් ලබාදෙන ශාකයකි.

- (1) රබර් (2) කපු (3) කොස්

02. එක් වරක් පමණක් ඵල දරණ ශාකයකි.

- (1) කිතුල් (2) කෙසෙල් (3) ගස්ලබු

03. මහා මාර්ගයේ පයින් ගමන් කිරීමේදී නොකළ යුත්තකි.

- (1) පාරේ වම් පැත්තෙන් ගමන් කිරීම
(2) පාරේ දකුණු පැත්තෙන් ගමන් කිරීම
(3) මාර්ග නීති අනුගමනය කිරීම.

04. පොදු ප්‍රවාහන සේවා භාවිතයෙන් ඇති අවාසියකි.

- (1) බඩු බාහිරාදිය ගෙන යාමට හැකි වීම.
(2) අඩු වියදමකින් ගමන්කළ හැකි වීම.
(3) ආරක්ෂාකාරී බව අඩුවීම.

05. පොදු ප්‍රවාහන සේවයේ යෙදෙන බස් රථයක දැකිය නොහැකි දෙයකි.

- (1) පුජ්‍ය පක්ෂය සඳහා වෙන් කර ඇත.
(2) ගැබිණි මාතාවන් සඳහා පවත් කර ඇත.
(3) දරුවන් සඳහා වෙන් කර ඇත.

06. ලෝක පරිසර උණාත්වය වැඩි වන නිසා සිදුවිය හැකි පාත්ත්වයකි.

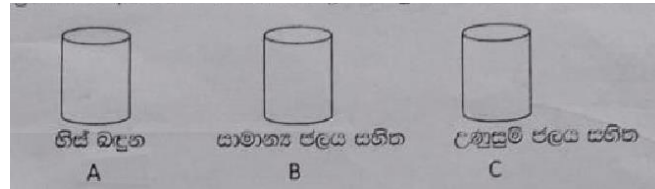
- (1) මුහුදු ජල ප්‍රමාණය ඉහළ යාම
(2) ඔහු ජල සහනය පහළ යාම
(3) මුහුදු ජල පතර බාල වීම

07. පාරේ පෙරහැරක් ගමන් කරන විට යා යුතු පැත්ත වන්නේ

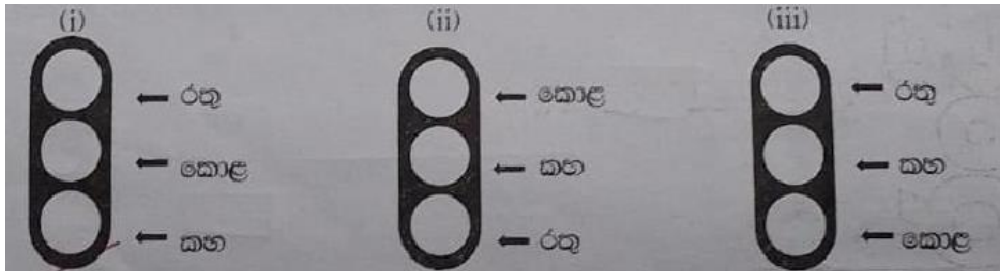
- (1) දකුණු පැත්තෙන් (2) වම් පැත්තෙන් (3) ඕනෑම පැත්තකින්

08. එකම ප්‍රමාණයේ අයිස් කැටයක් පහත සඳහන් බදුන් විට එකවර දැමුවහොත්
ප්‍රකාශන හිමිකම © 2023 A3BOOK. සියලු හිමිකම් ඇවිරිණි

- (1) A බඳුනේ ඉක්මනින් දියවේ.
 (2) B බඳුනේ ඉක්මනින් දියවේ.
 (3) C බඳුනේ ඉක්මනින් දියවේ.



09. නිවැරදි ලෙස සැකසූ ආලෝක සංඥා පුවරුව තෝරන්න



10. එක් අයෙකුට 3 බැගින් පොත් 320ක් කී දෙනෙකුට බෙදා දිය හැකිද?
 (1) 108 (2) 106 (3) 100



Education Social Media Network

මිශ්‍ර ප්‍රශ්න පත්‍ර - 118 (2023)

5 - ශ්‍රේණිය

පිළිතුරු

01. මැලියම් ලබාදෙන ශාකයකි.

- (1) රබර් (2) කපු (3) කොස්

02. එක් වරක් පමණක් ඵල දරණ ශාකයකි.

- (1) කිතුල් (2) කෙසෙල් (3) ගස්ලබු

03. මහා මාර්ගයේ පයින් ගමන් කිරීමේදී නොකළ යුත්තකි.

- (1) පාරේ වම් පැත්තෙන් ගමන් කිරීම
(2) පාරේ දකුණු පැත්තෙන් ගමන් කිරීම
(3) මාර්ග නීති අනුගමනය කිරීම.

04. පොදු ප්‍රවාහන සේවා භාවිතයෙන් ඇති අවාසියකි.

- (1) බඩු බාහිරාදිය ගෙන යාමට හැකි වීම.
(2) අඩු වියදමකින් ගමන්කළ හැකි වීම.
(3) ආරක්ෂාකාරී බව අඩුවීම.

05. පොදු ප්‍රවාහන සේවයේ යෙදෙන බස් රථයක දැකිය නොහැකි දෙයකි.

- (1) පුජ්‍ය පක්ෂය සඳහා වෙන් කර ඇත.
(2) ගැබිණි මාතාවන් සඳහා පවත් කර ඇත.
(3) දරුවන් සඳහා වෙන් කර ඇත.

06. ලෝක පරිසර උණාත්වය වැඩි වන නිසා සිදුවිය හැකි පාත්ත්වයකි.

- (1) මුහුදු ජල ප්‍රමාණය ඉහළ යාම
(2) ඔහු ජල සහනය පහළ යාම
(3) මුහුදු ජල පතර බාල වීම

07. පාරේ පෙරහැරක් ගමන් කරන විට යා යුතු පැත්ත වන්නේ

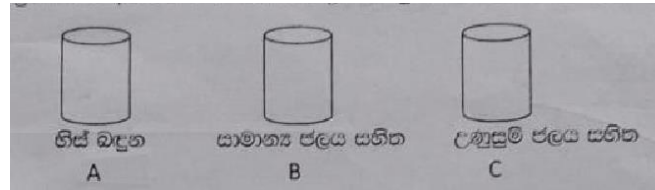
- (1) දකුණු පැත්තෙන් (2) වම් පැත්තෙන් (3) ඕනෑම පැත්තකින්

08. එකම ප්‍රමාණයේ අයිස් කැටයක් පහත සඳහන් බදුන් විට එකවර දැමුවහොත්

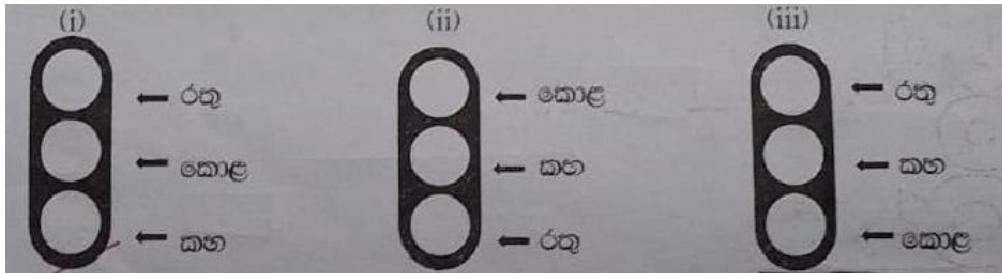
(1) A බදුනේ ඉක්මනින් දියවේ.

(2) B බදුනේ ඉක්මනින් දියවේ.

(3) C බදුනේ ඉක්මනින් දියවේ.



09. නිවැරදි ලෙස සැකසූ ආලෝක සංඥා පුවරුව තෝරන්න



10. එක් අයෙකුට 3 බැගින් පොත් 320ක් කී දෙනෙකුට බෙදා දිය හැකිද?

(1) 108

(2) 106

(3) 100